

6. SINIF

Fen Bilimleri

YAZILIDA

1000

CEPTE

Ayşe Selin **UZ**
Alper **KARAKUŞ**
Ulaş **BAŞOĞLU**
Fatih **AKYÜZ**

ARI

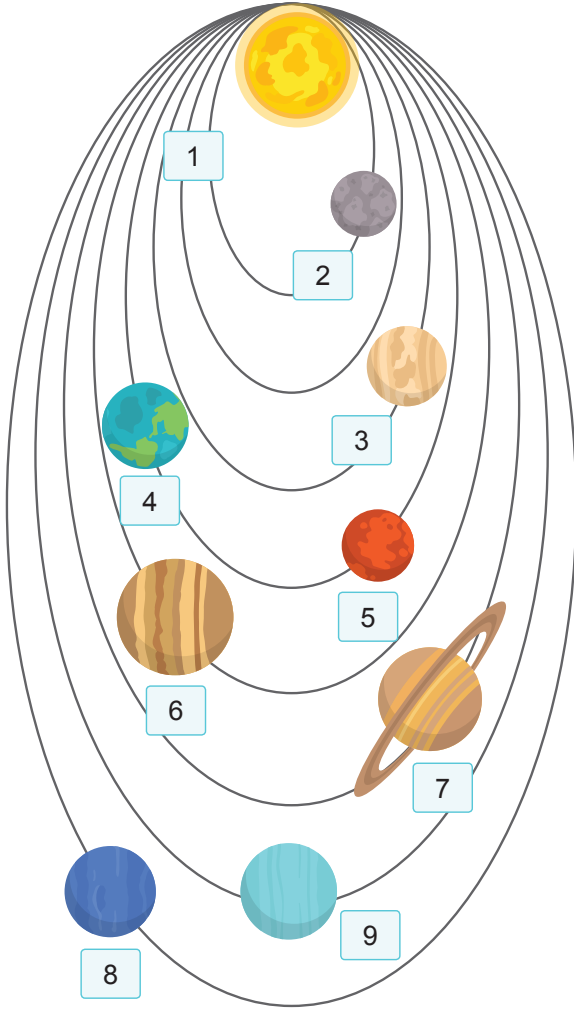
Yazılıların
cevapları için
QR Kodu
okutunuz.



Adı-Soyadı: Sınıfı: Okul No: Aldığı Puan:

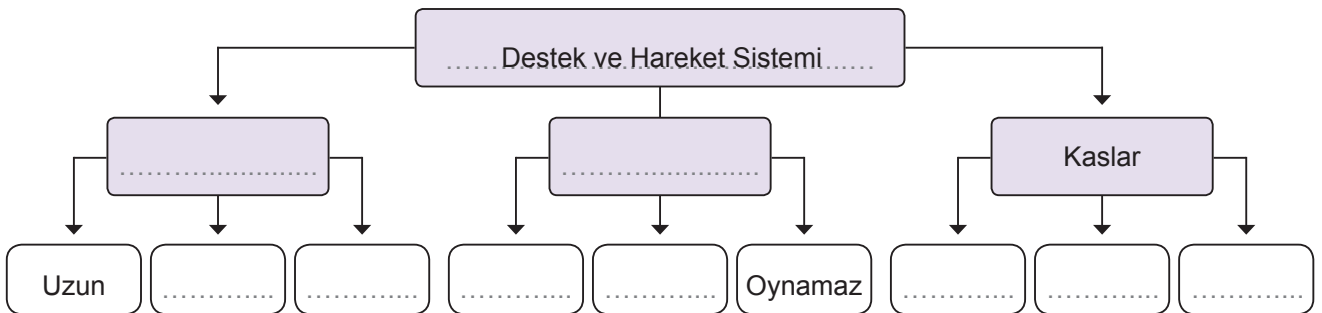
1. SORU (18 Puan)	2. SORU (18 Puan)	3. SORU (18 Puan)	4. SORU (16 Puan)	5. SORU (18 Puan)	6. SORU (12 Puan)	ALDIĞI PUAN
.....

- 1) Aşağıdaki güneş sistemi modelinde yıldız ve gezegenler güneşe uzaklıklarına göre sıralanmıştır. Şekillerin altındaki kutularda yer alan numaralara göre ilgili gök cisimlerini isimlerini yan tarafa yazınız.



- CEVAP:**
-
 -
 -
 -
 -
 -
 -
 -
 -

- 2) Aşağıdaki akış şemasında ilgili kutucukları uygun kavramlarla doldurunuz.



Adı-Soyadı: Sınıfı: Okul No: Aldığı Puan:

3) Aşağıda verilen modellerde hangisinin Güneş, hangisinin Ay tutulması olduğunu ve bu olaylarda yer alan gök cisimlerinin isimlerini uygun kutucuğa yazınız.

Ay, Yeniay Evresinde		
Güneş
..... Tutulması		

Ay, Dolunay Evresinde		
.....	Güneş
..... Tutulması		

4) Aşağıda görevi verilen kan hücrelerinin numaralarını yanda verilen ilgili hücre kutucuğuna yazalım.

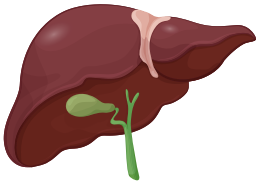
1. Kanı pıhtılaştırır.
2. Mikroplar vücuda girince sayısı artar.
3. Hücrelere oksijen taşır.
4. Kırmızı kan hücreleridir.
5. Kan kaybını önler.
6. Beyaz kan hücreleridir.
7. Rakıma bağlı olarak zamanla artabilir.
8. Mikroplara karşı vücudu savunur.

CEVAP:

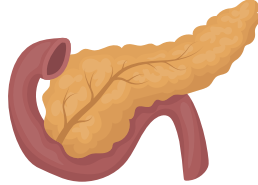
Alyuvar	Akyuvar	Kan Pulcuğu
.....

5) Görsellerde verilen organların isimlerini ve sindirimdeki görevlerini kısaca yazınız.

Karaciğer



Pankreas



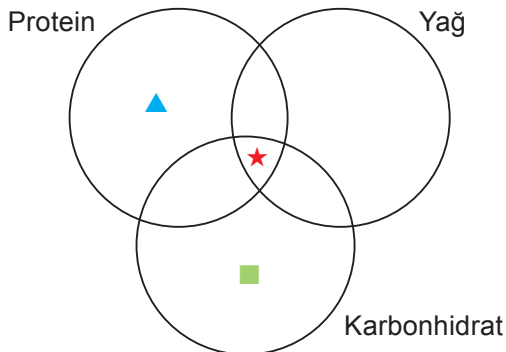
CEVAP:

Karaciğer:

Pankreas:

6) Protein, yağ ve karbonhidratların kimyasal sindirime uğradığı organlar ▲, ■, ★ sembolleri ile Venn şemasında gösterilmiştir.

▲, ■, ★ sembolleri ile gösterilen organları yazınız.



CEVAP:

▲.

■.

★.

Kazanım Odaklı Beceri Temelli Sorularla

ARI SORU BANKASI FEN BİLİMLERİ

6 SINIF

Kazanım Odaklı Sorular
MEB Tarzı Sorular
Beceri Temelli Yeni Nesil Sorular

YAZILIDA
100 CEPTE
HEDİYE



Video Çözümler için QR kodunu okutunuz



Akıllı Tahta

Fatih AKYÜZ



Başarı "İçinde"

ARI SORU BANKASI FEN BİLİMLERİ

6. SINIF



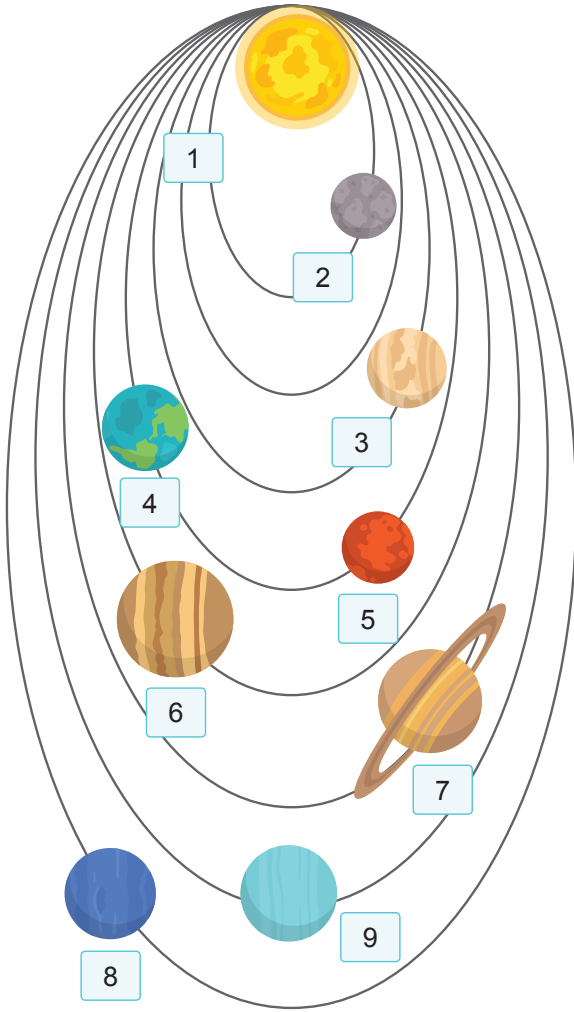
YAZILIDA
100 CEPTE
HEDİYE



Adı-Soyadı: Sınıfı: Okul No: Aldığı Puan:

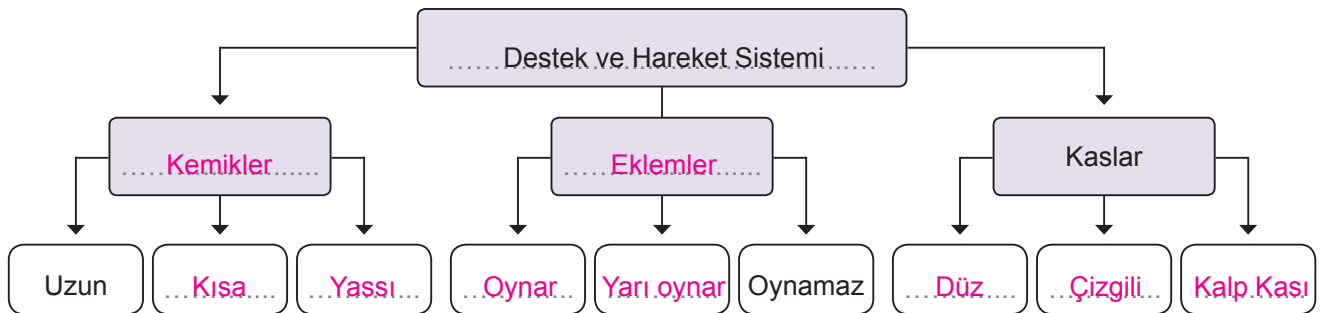
1. SORU (18 Puan)	2. SORU (18 Puan)	3. SORU (18 Puan)	4. SORU (16 Puan)	5. SORU (18 Puan)	6. SORU (12 Puan)	ALDIĞI PUAN
.....

1) Aşağıdaki güneş sistemi modelinde yıldız ve gezegenler güneşe uzaklıklarına göre sıralanmıştır. Şekillerin altındaki kutularda yer alan numaralara göre ilgili gök cisimlerini isimlerini yan tarafa yazınız.



- CEVAP:**
- Güneş
 - Merkür
 - Venüs
 - Dünya
 - Mars
 - Jüpiter
 - Satürn
 - Neptün
 - Uranüs

2) Aşağıdaki akış şemasında ilgili kutucukları uygun kavramlarla doldurunuz.



Adı-Soyadı: Sınıfı: Okul No: Aldığı Puan:

3) Aşağıda verilen modellerde hangisinin Güneş, hangisinin Ay tutulması olduğunu ve bu olaylarda yer alan gök cisimlerinin isimlerini uygun kutucuğa yazınız.

Ay, Yeniay Evresinde		
GüneşAy.....Dünya.....
.....Güneş..... Tutulması		

Ay, Dolunay Evresinde		
.....Ay.....Dünya.....	Güneş
.....Ay..... Tutulması		

4) Aşağıda görevi verilen kan hücrelerinin numaralarını yanda verilen ilgili hücre kutucuğuna yazalım.

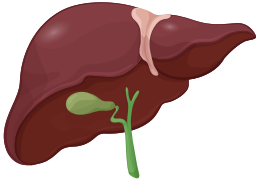
1. Kanı pıhtılaştırır.
2. Mikroplar vücuda girince sayısı artar.
3. Hücrelere oksijen taşır.
4. Kırmızı kan hücreleridir.
5. Kan kaybını önler.
6. Beyaz kan hücreleridir.
7. Rakıma bağlı olarak zamanla artabilir.
8. Mikroplara karşı vücudu savunur.

CEVAP:

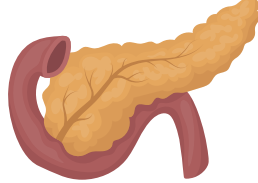
Alyuvar	Akyuvar	Kan Pulcuğu
.....3-4-7.....2-6-8.....1-5.....

5) Görsellerde verilen organların isimlerini ve sindirimdeki görevlerini kısaca yazınız.

Karaciğer



Pankreas



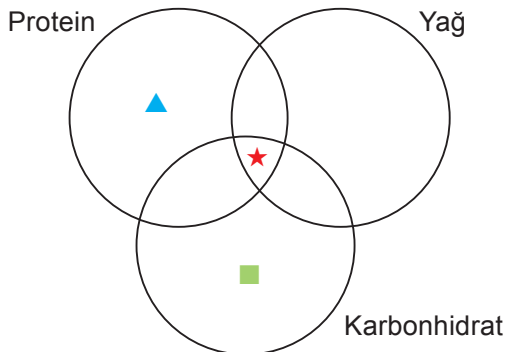
CEVAP:

Karaciğer:
 ..Ürettiği safra salgısını ince bağırsağa
 ..gönderir. Safra, yağların mekanik sindi-
 ..rimini yapar.....

Pankreas:
 ..Ürettiği pankreas öz suyunu ince bağır-
 ..sağa gönderir. Burada protein, yağ ve
 ..karbonhidratın kimyasal sindirimini ger-
 ..çekleştirir.....

6) Protein, yağ ve karbonhidratların kimyasal sindirime uğradığı organlar ▲, ■, ★ sembolleri ile Venn şemasında gösterilmiştir.

▲, ■, ★ sembolleri ile gösterilen organları yazınız.



CEVAP:

▲ .. Mide

■ .. Ağız

★ .. İnce Bağırsak