

6. SINIF

Fen Bilimleri

YAZILIDA


1000

CEPTE

Ayşe Selin **UZ**
Alper **KARAKUŞ**
Ulaş **BAŞOĞLU**
Fatih **AKYÜZ**

ARI

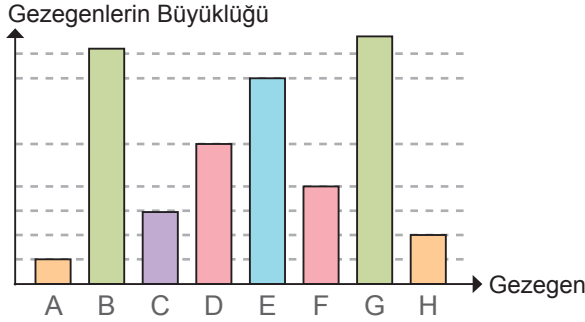
Yazılıların
cevapları için
QR Kodu
okutunuz.



Adı-Soyadı: Sınıfı: Okul No: Aldığı Puan:

1. SORU (16 Puan)	2. SORU (20 Puan)	3. SORU (22 Puan)	4. SORU (18 Puan)	5. SORU (12 Puan)	6. SORU (12 Puan)	ALDIĞI PUAN
.....

- 1) Aşağıda güneş sistemindeki sekiz gezegenin büyüklükleri grafik üzerinde harflerle gösterilmiştir.

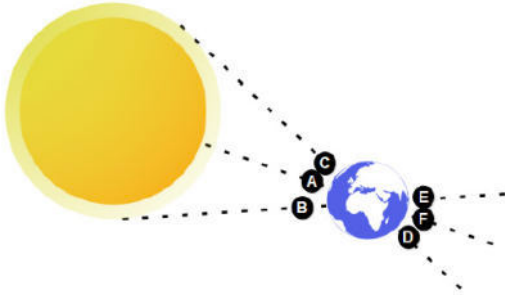


Harflerin karşısına hangi gezegenin geldiğini yanda verilen tabloya yazınız.

CEVAP:

A	E
B	F
C	G
D	H

- 2) Aşağıda Güneş ve Dünya'nın konumu verilmiştir.



Buna göre yandaki soruları cevaplandırınız.

CEVAP:

1. Ay hangi konumdayken Güneş tutulması meydana gelir? Nedeni ile açıklayınız.

.....
.....
.....

2. Ay hangi konumdayken Ay tutulması meydana gelir? Nedeni ile açıklayınız.

.....
.....
.....

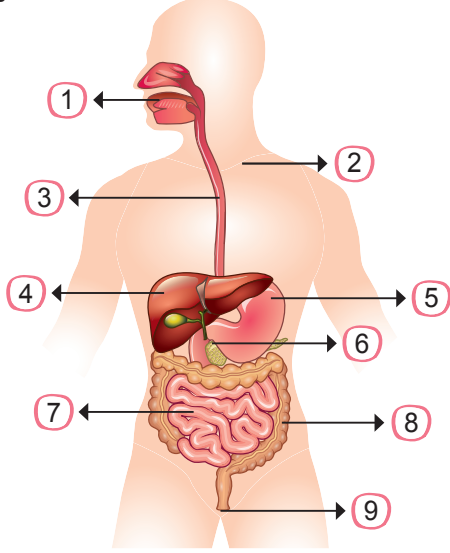
- 3) Vücudumuzda bulunan kas çeşitleri ve özelliklerini göstermek için hazırlanan tablodaki ilgili yerlere işaret (X) koyunuz.

Görevi	 Çizgili Kas	 Düz Kas	 Kalp Kası
Çalışırken yorulur			
Çalışırken yorulmaz			
İstemli çalışır			
İstemsiz çalışır			
Damarlarda bulunur			
Kalpte bulunur			
Midede bulunur			
Bacakta bulunur			
Dilde bulunur			

Adı-Soyadı: Sınıfı: Okul No: Aldığı Puan:

4) Aşağıda sindirim sistemini oluşturan organlar numaralar ile sembolize edilmiştir.

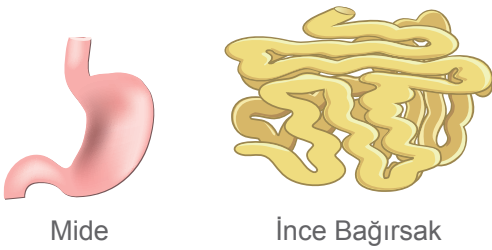
Verilen numaraları, uygun organ adının yanına yazınız.



CEVAP:

<input type="text"/>	Mide	<input type="text"/>	Ağız	<input type="text"/>	Yutak
<input type="text"/>	İnce Bağırsak	<input type="text"/>	Yemek borusu	<input type="text"/>	Kalın Bağırsak
<input type="text"/>	Anüs	<input type="text"/>	Pankreas	<input type="text"/>	Karaciğer

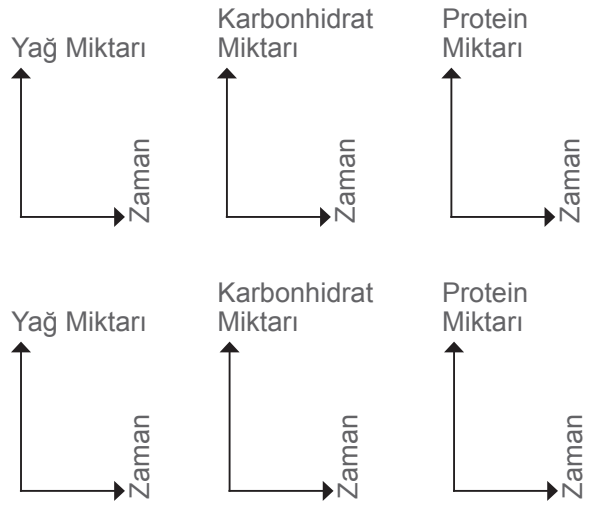
5) Aşağıda verilen sindirim sistemi organlarında bulunan çeşitli besinlerin miktarlarının zamanla değişimini grafik üzerinde gösteriniz.



Mide

İnce Bağırsak

CEVAP:



6) ★, ■ ve ● ile gösterilmiş kavramları yanda belirtiniz.



CEVAP:

★	■	●

Kazanım Odaklı Beceri Temelli Sorularla

ARI SORU BANKASI FEN BİLİMLERİ

6 SINIF

Kazanım Odaklı Sorular
MEB Tarzı Sorular
Beceri Temelli Yeni Nesil Sorular

YAZILIDA
100 CEPTE
HEDİYE



Video Çözümler için QR kodunu okutunuz



Akıllı Tahta

Fatih AKYÜZ



Başarı "İçinde"

ARI SORU BANKASI FEN BİLİMLERİ

6. SINIF



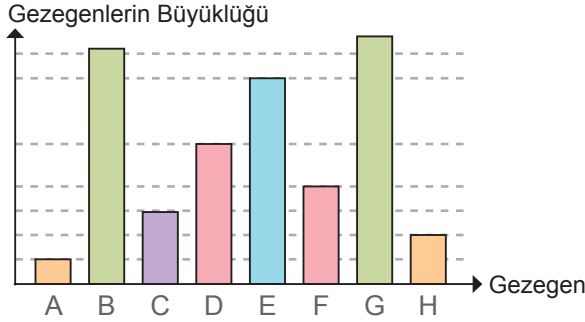
YAZILIDA
100 CEPTE
HEDİYE



Adı-Soyadı: Sınıfı: Okul No: Aldığı Puan:

1. SORU (16 Puan)	2. SORU (20 Puan)	3. SORU (22 Puan)	4. SORU (18 Puan)	5. SORU (12 Puan)	6. SORU (12 Puan)	ALDIĞI PUAN
.....

- 1) Aşağıda güneş sistemindeki sekiz gezegenin büyüklükleri grafik üzerinde harflerle gösterilmiştir.

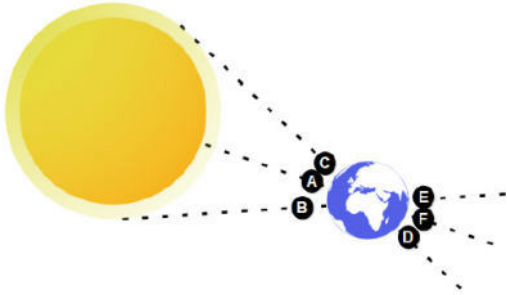


Harflerin karşısına hangi gezegenin geldiğini yanda verilen tabloya yazınız.

CEVAP:

A	Merkür	E	Uranüs
B	Satürn	F	Dünya
C	Venüs	G	Jüpiter
D	Neptün	H	Mars

- 2) Aşağıda Güneş ve Dünya'nın konumu verilmiştir.



Buna göre yandaki soruları cevaplandırınız.

CEVAP:

1. Ay hangi konumdayken Güneş tutulması meydana gelir? Nedeni ile açıklayınız.

A çünkü Dünya, Güneş ve Ay'ın doğru..
sal olması gerekir.....

2. Ay hangi konumdayken Ay tutulması meydana gelir? Nedeni ile açıklayınız.

F çünkü Dünya, Güneş ve Ay'ın doğru..
sal olması gerekir.....

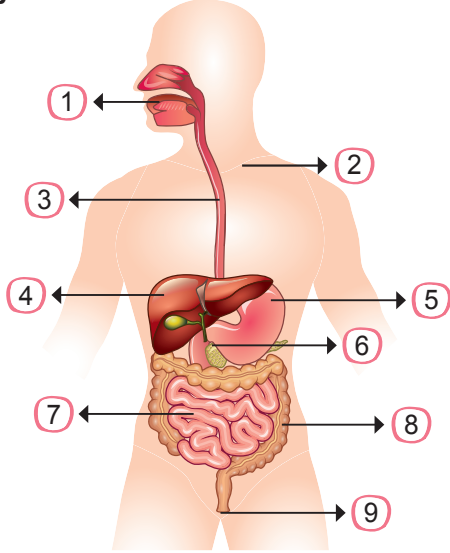
- 3) Vücudumuzda bulunan kas çeşitleri ve özelliklerini göstermek için hazırlanan tablodaki ilgili yerlere işaret (X) koyunuz.

Görevi	 Çizgili Kas	 Düz Kas	 Kalp Kası
Çalışırken yorulur	✓		
Çalışırken yorulmaz		✓	✓
İstemli çalışır	✓		
İstemsiz çalışır		✓	✓
Damarlarda bulunur		✓	
Kalpte bulunur			✓
Midede bulunur		✓	
Bacakta bulunur	✓		
Dilde bulunur	✓		

Adı-Soyadı: Sınıfı: Okul No: Aldığı Puan:

4) Aşağıda sindirim sistemini oluşturan organlar numaralar ile sembolize edilmiştir.

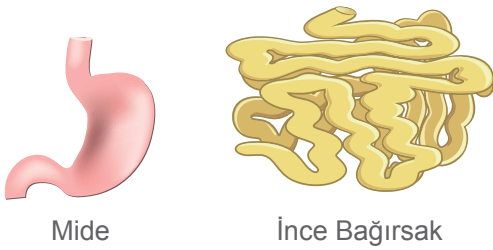
Verilen numaraları, uygun organ adının yanına yazınız.



CEVAP:

5. Mide	1. Ağız	2. Yutak
7. İnce Bağırsak	3. Yemek borusu	8. Kalın Bağırsak
9. Anüs	6. Pankreas	4. Karaciğer

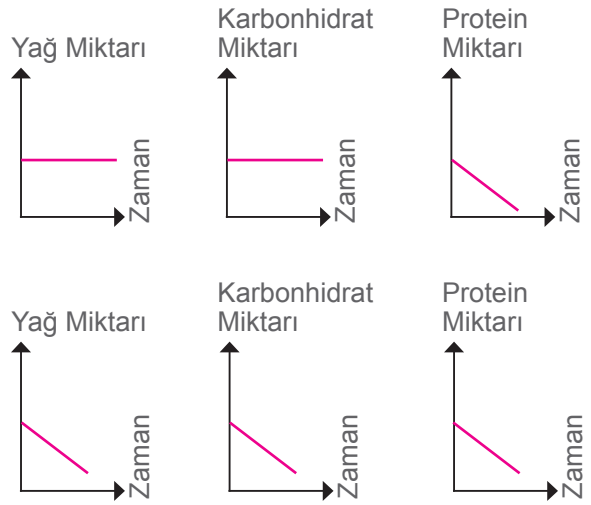
5) Aşağıda verilen sindirim sistemi organlarında bulunan çeşitli besinlerin miktarlarının zamanla değişimini grafik üzerinde gösteriniz.



Mide

İnce Bağırsak

CEVAP:



6) ★, ■ ve ● ile gösterilmiş kavramları yanda belirtiniz.



CEVAP:

★	■	●
İskelet Sistemi	Eklem	Kemik